




Всероссийская олимпиада школьников по
географии **Школьный этап 2024-2025 учебный год**
Бланк заданий – 7 класс

Задание № 1. Как называется внутригородское муниципальное образование Красносельского района Санкт-Петербурга, в котором расположено ваше образовательное учреждение?

Выберите правильный ответ и запишите его порядковый номер: 1. Юго-Запад; 2. Южно-Приморское; 3. Урицк; 4. Константиновское; 5. Сосновая Поляна; 6. Красное Село; 7. Горелово.

Задание № 2. ↓ Рассмотрите изображения и выполните задания: **2-1.** Поберите подпись к каждой фотографии. Составьте пару из номера фото и подписи к нему (буква-цифра): 1) старица; 2) пороги; 3) водопад; 4) перекат. Запишите в бланк ответов. **2-2.** Части какого глобального процесса показаны на фотографиях? Выберите ответ и запишите его номер: 1) смена дня и ночи; 2) приливы и отливы; 3) круговорот воды; 4) смена времён года.



Задание № 3. На фотографии со стенда Этнографического музея в Санкт-Петербурге запечатлён представитель одного из малочисленных народов Севера РФ, относящегося к финно-угорской группе уральской семьи языков. Это промысловики, рыболовы и оленеводы. Выберите народы с похожим хозяйственным укладом: 1) ханты; 2) калмыки; 3) чуваш; 4) ненцы. Выберите ответы и запишите их номера в бланк ответов.



Задание № 4. На берегу одной из многочисленных российских рек в горах на юге Сибири смотритель заказника запечатлел на фото камни-глыбы разной величины. В результате какого процесса в литосфере они образовались: 1) карст; 2) сейсмичность; 3) выветривание; 4) вулканизм? Выберите правильный ответ и запишите его номер в бланк ответов.



Задание № 5.

Рассмотрите фотографии и ответьте на вопросы:

5. -1 На верхней фотографии изображение:

- 1) строительной площадки;
- 2) лесозаготовительной делянки;
- 3) метеоплощадки метеорологической станции;
- 4) нефтяного промысла.

5. -2 В какой части территории России могла быть сделана фотография?

- 1) в Ленинградской области;
- 2) в дельте Волги;
- 3) на Среднерусской возвышенности;
- 4) в горах Кавказа?



5. -3 На нижнем фото: эти приборы устанавливают, чтобы 1) измерить количество осадков за период наблюдения; 2) изучить структуру вертикальной турбулентности в нижних слоях атмосферы; 3) фиксировать солнечную активность за период наблюдения; 4) обеспечить авиацию актуальной метеорологической информацией.

Выберите правильные ответы и запишите их номера в бланк ответов

Бланк заданий – 7 класс

Задание № 6. Рассмотрите фотографии реки Дудергофки, сделанные в Красносельском районе, между проспектами Народного Ополчения и Ветеранов в феврале, мае и августе 2024 года.

Какую из фотографий вы бы предложили подписать так: «Антропогенный ландшафт»? Выберите изображение и запишите его номер в бланк ответов.



1



2



3



Задание № 7. Перед вами изображения нескольких табличек, которые можно увидеть на цоколе домов в историческом центре Петербурга, а также часть гранитного обелиска-водомера возле Синего моста на набережной реки Мойки возле Исаакиевской площади. На всех есть упоминание 1824 года. На водомерном столбе ещё и 1924, и другие даты, начиная с 1703 года.


7-1. Какое природное событие в ноябре 1824 года, так сильно впечатлило горожан, что они установили и до наших дней сохраняют памятные таблички с надписями на русском и немецком языках: 1) извержение вулкана; 2) наводнение; 3) землетрясение; 4) цунами?

7-2. Может ли на водомере появиться метка «2024 год»? 1) Да, такое может случиться в 2024 году; 2) Нет, город сегодня защищён дамбой; 3) Зависит от масштаба опасного природного явления. Выберите ответы и запишите их номера.


Задание № 8. Один из гостей нашего города 1 августа сделал эти фотографии во время прогулки по Неве на теплоходе. Установите соответствие типов облаков, зафиксированных на фото, и относящихся к ним определений: кучевые; слоистые; перламутровые; серебристые. Если определение не подходит ни к одному из изображений, то использовать его буквенное обозначение не надо. Выберите ответы, составьте пары и запишите в бланк ответов



1



2



3

Ниже приведены фрагменты определений типов облаков

А. Кучевые облака — это плотные, днём ярко-белые облака со значительным вертикальным развитием. Высота нижней границы обычно от 400 м до 1500 м, иногда — 2000–3000 м и более.

Б. Слоистые – бледные низкие облака, наблюдаются в пасмурную погоду, образуют однородный слой, как туман, расположенный на высоте от 100 до 400 м. Обычно они закрывают всё небо.

В. Перламутровые облака образуются в нижней стратосфере в зимне-весенний период на высотах около 20–30 км, преимущественно в полярных широтах при аномально низких температурах.

Г. Серебристые облака формируются в верхних слоях атмосферы, довольно редкое атмосферное явление, возникающее на высоте 76–85 км над поверхностью Земли и видимое в глубоких сумерках.

Задание № 9. В начале июля 2024 года путешественник Фёдор Конюхов и пилот Игорь Потапкин совершили рекордный полёт на мотопараплане. Стартовав со льдины 7 июля, они успешно приземлились в финальной точке маршрута 8 июля в 02:42 по московскому времени. Протяжённость беспосадочного перелёта составила около 440 км, на что ушло 10 часов 13 минут. К острову Рудольфа, самому северному острову России путешественников доставил атомный ледокол «50 лет Победы». В поисках подходящей для старта льдины ледокол прошёл ещё дальше на 400 км. Полёт проходил на высоте от 267 до 835 метров. После приземления Ф. Конюхов сообщил: «Посадка успешная в запланированной точке 90° широты». Это был самый продолжительный и дальний полёт в высоких широтах. Рекорд установлен и зафиксирован! Рассмотрите карту, выполните задания:



9. -1 Полёт проходил над акваторией _____ океана;
9. -2 Направление полёта было на _____ (С, Ю, З, В);
9. -3 Точка приземления на 90° широты – это:
 - 1) Гринвичский меридиан; 2) Северный полюс;
 - 4) Северный тропик; 4) Северный полярный круг?
9. -4 Остров Рудольфа в составе архипелага:
 - 1) Новая Земля; 2) Северная Земля; 3) Шпицберген;
 - 4) Земля Франца-Иосифа?

Впишите пропущенное; выберите правильные ответы и запишите их номера в бланк ответов.



Задание № 10. На плане центральной части старинного города Касимов (город основан в один год с Москвой) в Рязанской области видно: в территорию жилой застройки и улицы местами «врезаются» природные объекты. Рассмотрите фрагмент плана и назовите эти природные объекты: 1) лесные массивы; 2) овраги; 3) пещеры; 4) водопады? Выберите ответ, запишите его номер.

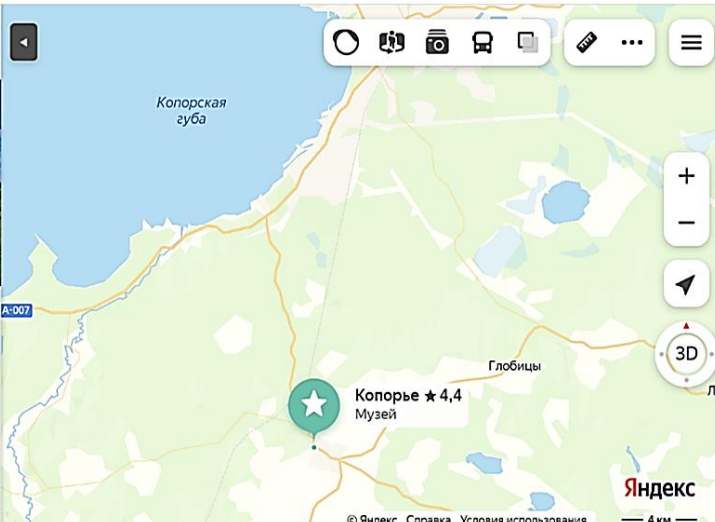


Задание № 11. В День Военно-морского флота России, 28 июля 2024 года, в Адмиралтействе в Санкт-Петербурге открыт барельеф в честь русских моряков, совершивших великое географическое открытие. В январе 2025 года исполнится 205 лет со дня этого события.

На барельефе под двуглавым орлом в короне Российской империи запечатлены командующие русской экспедицией, рядовой матрос и морские офицеры. Из природных объектов показаны плавающая гигантская ледяная скала и птицы, которые цветом своего оперения и походкой напоминают очень важных господ. Какому свершению русских моряков посвящён барельеф? Сформулируйте и запишите ответ в бланк ответов.

Задание № 12. В 1240 году ливонские рыцари основали крепость Копорье, она располагалась прямо на берегу Копорской губы Финского залива. А в наши дни от стен крепости Копорье до морского побережья расстояние около 12 км. Рассмотрите скриншот Яндекс-карты и ответьте на вопрос: какое направление вековых движений земной коры в этой части Евразии могло привести к тому, что море от крепости отступило на 12 км? Выберите верный вариант изображения стрелками направления вековых движений земной коры и запишите его номер в бланк ответов:

Поиск мест и адресов



Крепость Копорье
Музей, достопримечательность
★★★★★ 4,4 6299 оценок

Коротко о месте
Крепость «Копорье» — это музей под открытым небом, расположенный в селе Копорье...

1	↑
2	→ ←
3	↓
4	← →


Задание № 13. Гербы некоторых российских городов часто называют «говорящими», – они отражают смысл названия города или даже напрямую подсказывают его. Рассмотрите изображения и составьте пару из буквы и цифры «герб – название». Запишите полученные варианты в бланк ответов:

А – город Мёленки; Б – город Сычёвка; В – город Зима;
Г – город Стародуб.

Задание № 14. Учебный парусник Росрыболовства барк «Седов» участвовал в парусной регате у восточных берегов России. Рассмотрите фото, ответьте на вопрос: на снимке «Седов» находится у берегов:

- 1) Кольского полуострова;
- 2) Крымского полуострова;
- 3) Полуострова Канин Нос;
- 4) Полуострова Камчатка?

Выберите правильный ответ и запишите его номер в бланк ответов.



Задание № 15. ↓ Чтобы сделать такой красивый снимок панорамы Санкт-Петербурга для рекламного постера расположенного на берегу Невы известного отеля, сотрудник направил объектив фотоаппарата с верхнего этажа отеля в направлении на:

- 1) С, 2) СВ, 3) В, 4) ЮВ, 5) Ю, 6) ЮЗ, 7) З, 8) СЗ?

Выберите вариант ответа и впишите его номер в бланк ответов.

